
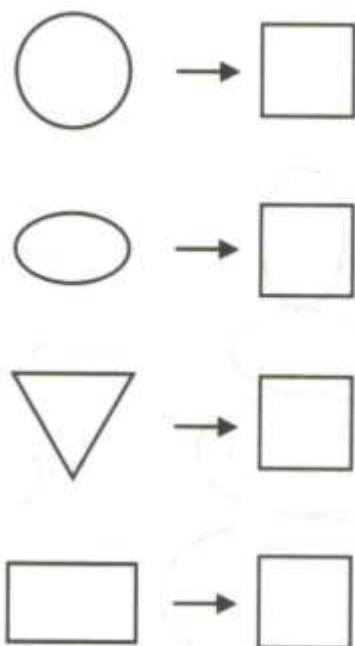
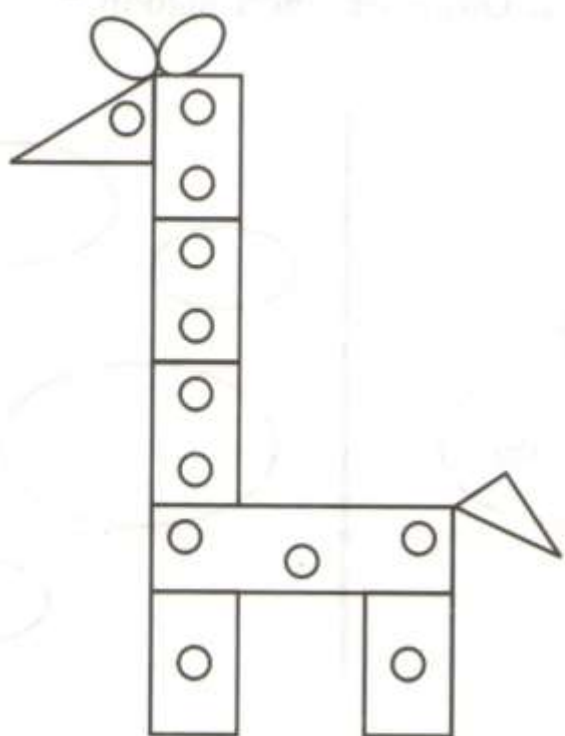
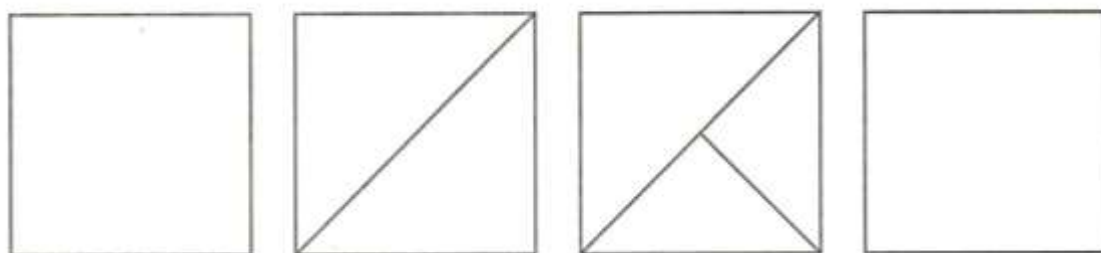


Напиши, сколько геометрических фигур в нарисованном жирафе.




Раздели четвертый квадрат, используя соответствующую закономерность.



МЕСЯЦЫ

МАРТ, ЗИМА, ПОНЕДЕЛЬНИК, АВГУСТ, ГОД, СРЕДА,
НЕДЕЛЯ, ЧЕТВЕРГ, СЕНТЯБРЬ, МАЙ, СУТКИ, ИЮНЬ,
ЛЕТО, ИЮЛЬ, ЖАРА, МОРОЗ, ЯНВАРЬ, ВЕСНА,
ФЕВРАЛЬ, СУГРОБЫ, ВЕСНА, АПРЕЛЬ, ОКТЯБРЬ,
ОСЕНЬ, СРЕДА, НОЯБРЬ, ДЕКАБРЬ, ВОСКРЕСЕНЬЕ.

У Кости и Артема жили коты: Мурзик и Тишка.
Мурзик был не маленький, а Тишка не большой.
Подпиши, как зовут каждого из котов?



Нарисуй последний листок календаря, используя соответствующую закономерность.

