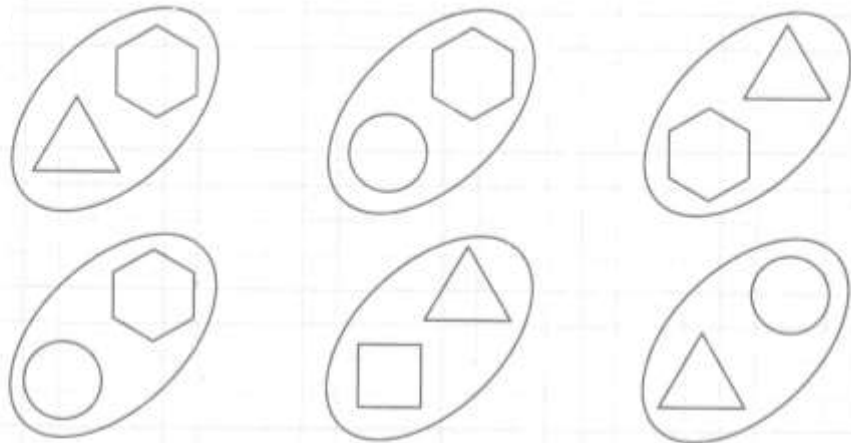
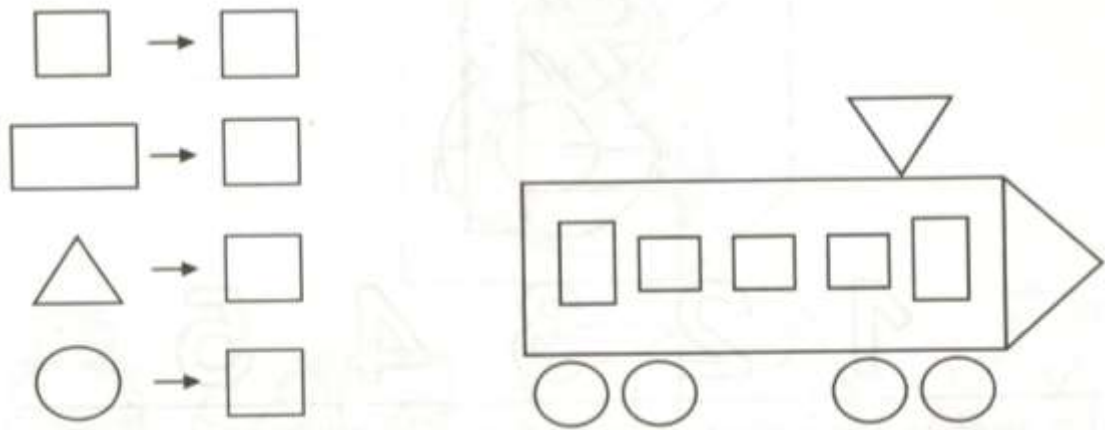


Анализ и синтез предметов сложной формы

Напиши, сколько геометрических фигур в нарисованном паровозе.



Найди все овощи, вписанные в прямоугольник.

Л	О	П	А	С	Б	Л	У	К	Д	К	О	Р
Л	Г	У	К	Л	С	Л	О	П	У	Т	Е	Е
Ж	У	У	Ч	М	О	Р	К	О	В	Ь	Л	Д
Г	Р	С	Е	Ю	И	О	Р	Т	К	О	П	И
Б	Е	А	С	Н	О	С	Р	Е	П	А	Р	С
Г	Ц	К	Н	С	К	Х	Ф	Я	Н	О	Н	И
С	О	П	О	Т	Н	К	А	П	У	С	Т	А
Р	Л	Т	К	У	С	Х	О	Х	С	У	Ю	Я

Дорисуй четвертую картинку, используя соответствующую закономерность.



утро



день



вечер



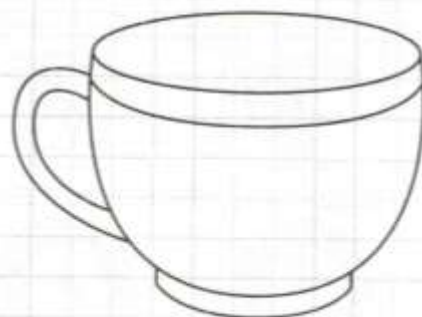
ночь

5

Саша и Егор пили чай из чашек разного цвета: желтой и красной. Саша пил чай не из желтой чашки. Из какой чашки пил чай каждый из мальчиков? Раскрась чашки мальчиков.



Саша



Егор

